

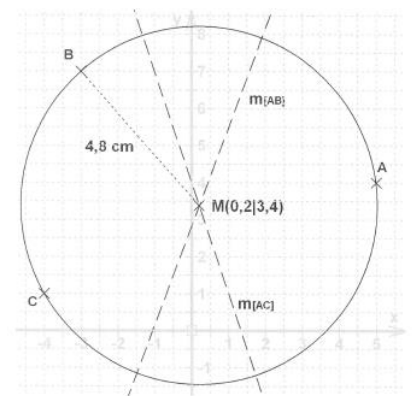
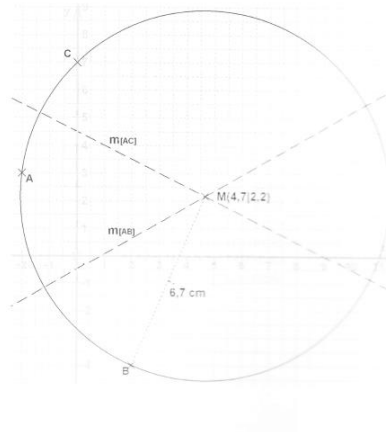
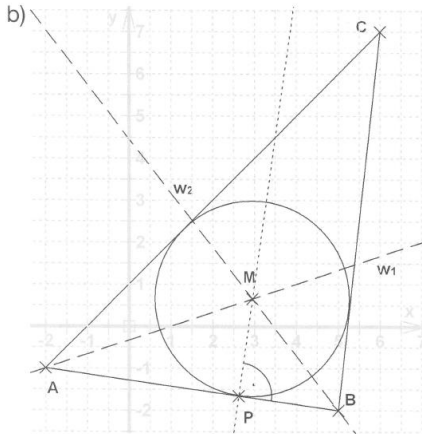
Liebe Klasse 8c,

die Lösung der Hausaufgabe von gestern:

Buch S. 62 / Nr. 4b

S. 63 / Nr. 1a

1b



Heute üben wir nochmal die Konstruktion des Inkreises.

Dazu schaut euch bitte zuerst folgendes Video an:

<https://www.youtube.com/watch?v=J77oQ8U7wxs>

Jetzt seid ihr dran:

Hellblaues Heft, Überschrift: Übung zum Inkreis, Datum

1. Zeichnet 2 verschiedene Dreiecke in euer Heft. Konstruiert jeweils die Inkreismittelpunkte so wie im Lernvideo.
2. Konstruiere den Inkreismittelpunkt M des Dreiecks ABC mit $A(-2|-1)$, $B(5|0)$ und $C(1|3)$

Bleibt gesund und munter,

liebe Grüße von Frau Wollny