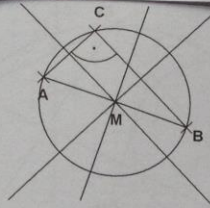
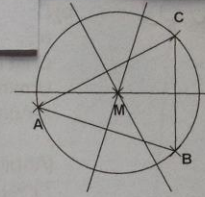


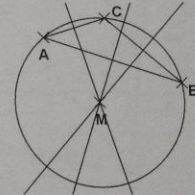
Ergänzende Infos zu 1.) Ü-Aufgabe HA 16.03.



Im **rechtwinkligen** Dreieck ist der Umkreismittelpunkt der **Mittelpunkt der längsten Seite** des Dreiecks.

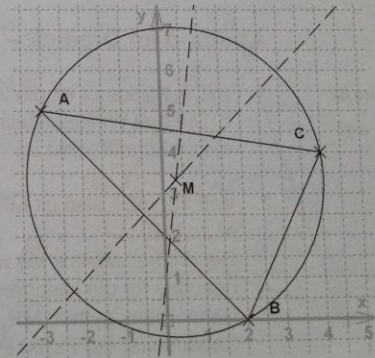


Im **stumpfwinkligen** Dreieck liegt der Umkreismittelpunkt **außerhalb** des Dreiecks.



X
16.03

4. Hinweis: Es genügt, wenn man zwei der drei Mittelsenkrechten zeichnet, um M zu bestimmen.
(Abbildung verkleinert auf 71%)



X/16.03.

S.611

5. a) Die Punkte B und C liegen auf

