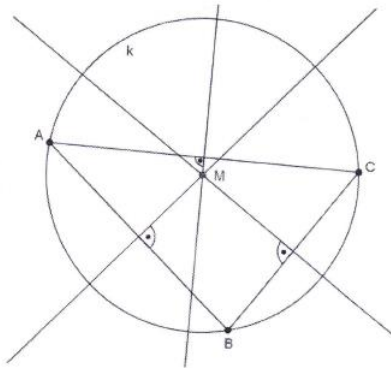
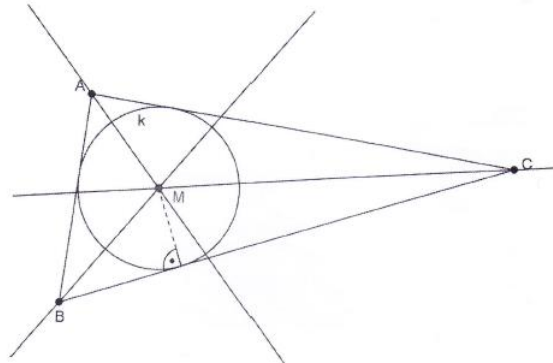


Lösungen zu 6.6 (Seite 53)

Aufgabe 1



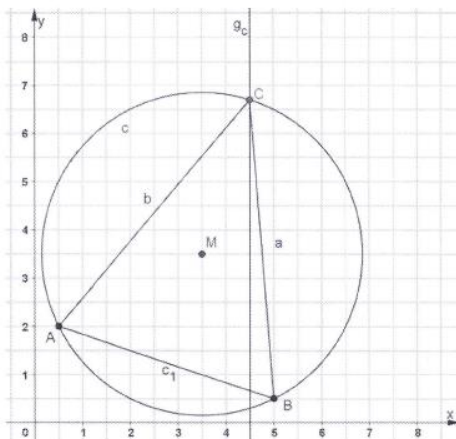
Aufgabe 2



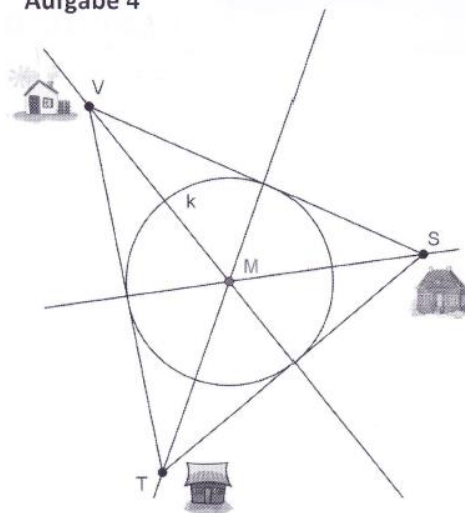
Beachte: verkleinerte Darstellung

Lösungen

Aufgabe 3



Aufgabe 4



Beachte: verkleinerte Darstellung

Hilfe für Aufgabe 3:

Zeichne A, B, M

Zeichne Kreis um M mit Radius ist Länge der Strecke AM (oder BM)

Zeichne Senkrechte zur x-Achse durch P(4,5|0)

Lösung: Schnittpunkt der Kreislinie mit Senkrechten -> C