

Du hast schon die Wüste etwas kennengelernt:

<https://www.hr-fernsehen.de/sendungen-a-z/die-ratgeber/sendungen/marrakesch-1,video-108302.html>



### Wüsten – nichts außer Sand?

Lies den Text im Buch Seite 62 und notiere in dein Heft:

Wüsten – nichts außer Sand?


Definition: Wüsten sind Vegetationszonen am Rand der Tropen mit wenig oder keiner Vegetation. Pro Jahr fällt dort wenig bis gar kein Niederschlag und die Temperaturen variieren zwischen Tag und Nacht stark zwischen Hitze und Kälte.

Hamada (Felswüste)	Serir (Kieswüste)	Erg (Sandwüste)
70 %	10 %	20 %

Fülle die folgenden Arbeitsblätter aus:

### In der Wüste

1. Trage in die Abbildung die folgenden Wüstenformen ein:  
Sandwüste – Kieswüste – Felswüste – Hamada – Erg – Serir.



2. Beschreibe die Entstehung der einzelnen Wüstenformen.

---

---

---

---

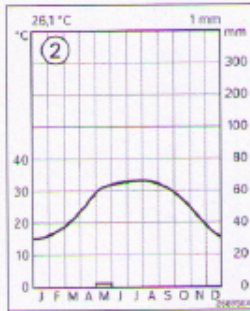
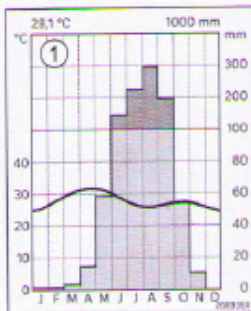
---

---

---

---

3. Beurteile, ob die Klimadiagramme aus einer Wüste stammen. Begründe deine Aussage.




---

---

---

---

2. Arbeite mit dem Atlas und ermittle die in der Abbildung gezeigten Wüsten.



1: \_\_\_\_\_

2: \_\_\_\_\_

3: \_\_\_\_\_

4: \_\_\_\_\_

5: \_\_\_\_\_

6: \_\_\_\_\_

7: \_\_\_\_\_

8: \_\_\_\_\_

9: \_\_\_\_\_

10: \_\_\_\_\_