

Liebe Klasse 9D,

anbei die Lösung für das Arbeitsblatt zum ökonomischen Prinzip. Bitte vergleichen!

**Arbeitsaufträge für die Woche 3 nach den Osterferien! (04.05.2020 - 08.05.2020)→ gilt für die 2 WR-Stunden.**

- Bearbeite die angehängten Arbeitsblätter und hilf Mila, den besten Helm für sich zu finden.

- Da wir uns ja wahrscheinlich ab 11.05 wieder in der Schule sehen, werden wir dann dieses Arbeitsblatt in der Schule verbessern!

- Bitte bring aber auch alle anderen Hefteinträge mit, die du während den Corona-Ferien gemacht hast! Ich werde mir diese anschauen.

Viel Spaß und auf ein baldiges Wiedersehen,

J. Hilgart

## Wir handeln wirtschaftlich - Das ökonomische Prinzip



Maximalprinzip

Minimalprinzip



Erklärung:

Mit gegebenen Mittel den größtmöglichen Erfolg erzielen.

Beispiel:

Mit einem Budget von 2.000,00 € den schönsten und besten Urlaub buchen.

Erklärung:

Mit geringsten Mitteln ein bestimmtes Ziel erreichen.

Beispiel:

Von einem Budget von 2.000,00 € so wenig wie möglich ausgeben. Z. B. Angebote für ein Handy vergleichen.

## Arbeitsauftrag:

1) Entscheide, ob in den folgenden Situationen ein Maximal- oder Minimalprinzip vorliegt!

		Maximal- prinzip	Minimal- prinzip
a	Helmut F. vergleicht mehrere Angebote über einen Laserdrucker (Typ XY-1122) und wählt das Angebot mit dem günstigsten Preis.		✗
b	Maria S. versucht, ihre Familie mit ihrem festen Haushaltsgeld möglichst zufriedenzustellen.	✗	
c	Das Unternehmen Meier KG versucht, mit einem festgelegten Werbeetat möglichst viele Kunden zu erreichen.	✗	
d	Der Unternehmer Fritz K. wählt beim Kauf eines Lieferwagens aus mehreren gleichwertigen Fabrikaten das Fahrzeug mit dem günstigsten Benzinverbrauch aus.		✗
e	Der Schüler Tobias B. versucht, mit möglichst geringem Arbeitsaufwand das Klassenziel zu erreichen.		✗
f	Die Hausfrau Irene M. versucht, durch den Vergleich von Preisen den Lebensmittelbedarf ihrer Familie so preiswert wie möglich zu decken.		✗

2) Überlege dir Beispiele, in denen das Maximal- oder Minimalprinzip vorliegt!

Maximalprinzip: \_\_\_\_\_ individuelle Lösung \_\_\_\_\_







\_\_\_\_\_

Minimalprinzip: \_\_\_\_\_ individuelle Lösung \_\_\_\_\_

\_\_\_\_\_



**1. Aufgabe:** Zuhause angekommen setzt sich Mila sofort an ihren PC und sucht bei einem großen Onlinehandel nach ihren drei Lieblingsmodellen. Sie stößt dabei auf folgende Suchergebnisse:

A		<p>49,90 € (incl. MwSt.)            5,60 € Versandkosten innerhalb von Deutschland            8,90 € Versandkosten EU            auf Lager, sofort lieferbar            Nur gegen Vorkasse.</p>	<p>Hat von Ihnen die volle Blumenzahl erhalten!              (1 Bewertung)</p>
B		<p>53,90 € (incl. MwSt.)            Kostenlose Lieferung            Lieferzeit 3-7 Werktage            Zahlungsmöglichkeiten: PayPal, Vorkasse, Rechnung</p>	<p>            (156 Bewertungen)</p>
C		<p>49,90 € (incl. MwSt.)            Versandkostenfrei ab einem Einkaufswert von 90,00 €.            Lieferzeit 7 -14 Werktage            Zahlbar gegen Rechnung, Kreditkarte, PayPal</p>	<p>            (5 Bewertungen)</p>






2.2 Fasse nun alle für Mila relevanten Informationen über die drei Helme übersichtlich in einer Tabelle zusammen und gib ihr eine begründete Kaufempfehlung. **Tipp:** Unterteile die Tabelle dazu noch in Spalten und beschrifte die aussagekräftig. Solltest Du dabei größere Schwierigkeiten haben, kannst Du Dir bei der Lehrkraft eine Hilfekarte holen.

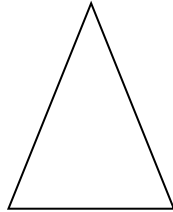
Helm A	
Helm B	
Helm C	

**Kaufempfehlung:**



**2.3** Neben dem Internet gäbe es für Mila noch andere mögliche Informationsquellen für Kaufentscheidungen. Finde drei weitere mögliche Informationsquellen. Ordne diese in der angegebenen Reihenfolge.

wenig sinnvolle Informationsquelle für sinnvolle Kaufentscheidung



sinnvolle Informationsquelle für sinnvolle Kaufentscheidung

**Falls du dir unsicher mit weiteren möglichen Informationsquellen bist, lies hier:**

### **Stiftung Warentest**

Die Stiftung Warentest wurde 1964 auf Beschluss des Deutschen Bundestags gegründet. Sie prüft anonym und nach wissenschaftlichen Kriterien Waren und Dienstleistungen in ganz Deutschland und veröffentlicht ihre Testberichte. Dabei erhält das Unternehmen eine staatliche Förderung, damit die Tests objektiv und unabhängig durchgeführt werden.

### **Verbraucherzentralen**

In allen 16 Bundesländern bieten die Verbraucherzentralen Beratung und Information zu Fragen des Verbraucherschutzes, helfen bei Rechtsproblemen und vertreten die Interessen der Verbraucher auf Landesebene.

Die Verbraucherzentrale Bayern ist, ebenso wie die anderen Verbraucherzentralen, eine überwiegend öffentlich finanzierte, gemeinnützige Organisation. Die 16 Beratungsstellen sind in ganz Bayern verteilt. Daneben gibt es noch eine große Anzahl an Energieberatungsstellen.

-----



**Hilfekarte:**

Die Wichtigkeit dieser einzelnen Kriterien bewertet jeder für sich anders, bedenke dies bei Deiner begründeten Kaufempfehlung.

	Endpreis mit Versandkosten	Lieferzeit	Zahlungs- möglichkeiten	Testurteile	Aussehen/ Optik des Helms	Kunden- bewertungen/ Kunden- rezensionen
Helm A						
Helm B						
Helm C						