


# Die Zünfte im Mittelalter



ulstein bild, Granger, NYC

(A) \_\_\_\_\_





akg-images GmbH

(B) \_\_\_\_\_



akg-images GmbH

(C) \_\_\_\_\_



## Die Handwerker

- 1 Benenne die Berufe in den Abbildungen.
- 2 Ordne auch die Zunftzeichen oben entsprechend zu.
- 3 Fülle den Lückentext aus. Verwende dabei die folgenden Begriffe:  
drei - Eltern - Geselle - Gesellenstück - Handwerksmeister -  
Jahre - Lehre - Lehrgeld - Meister - Meisterstück -  
Wanderschaft - Zunft - Zunftmeister

## Der Weg in die Zunft

Die \_\_\_\_\_ gaben ihr Kind einem \_\_\_\_\_ in  
die \_\_\_\_\_. Diese dauerte mindestens \_\_\_\_\_ Jahre.  
Die Eltern bezahlten das \_\_\_\_\_. Jetzt war der  
Lehrling Mitglied der \_\_\_\_\_, deren Vorsitzender  
der \_\_\_\_\_ war. Um \_\_\_\_\_ zu  
werden, musste er ein \_\_\_\_\_ vorweisen. Danach  
ging er für einige Zeit auf \_\_\_\_\_. Hatte er  
schließlich ein \_\_\_\_\_ fertig, so konnte er, wenn  
ein Platz frei war, auch \_\_\_\_\_ werden.  
Aber das dauerte oft viele \_\_\_\_\_.

## 2 Lehre heute? Recherchiere die Informationen.

- |                                  |  |
|----------------------------------|--|
| a) Die „Zunft“ heißt heute       | d) Lehrlinge heißen heute                            |
| _____                            | _____  |
| b) Der „Vorsitzende“ heißt heute | e) Nenne Zunftnamen, die zu<br>Familiennamen wurden. |
| _____                            | _____  |
| c) Eine Lehre dauert heute       | _____  |
| _____                            |  |